

Prénom :

ACE : NOVEMBRE

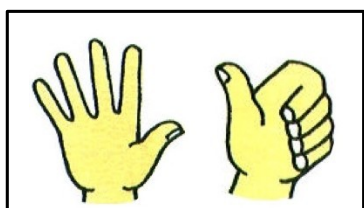
MATHÉMATIQUES

Réf.1 Connaître (écrire et nommer) les nombres entiers inférieurs à 100

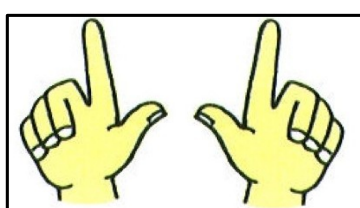
1. Écris les nombres dictés

--	--	--	--	--	--	--	--	--

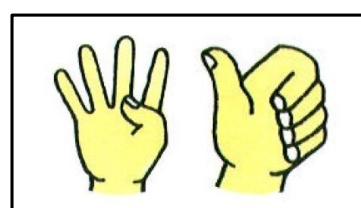
2. Écris le nombre de doigts levés



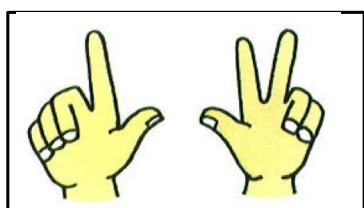
□



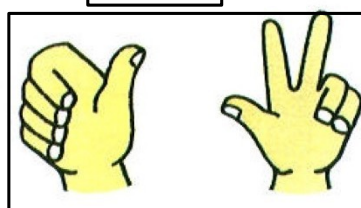
□



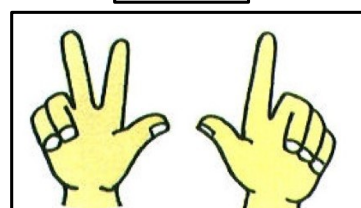
□



□



□



□

3. Compte le plus loin possible à partir de 5

1 - 2 - 3 - 4 - 5

.....

.

Réf.4 Ecrire une suite de nombres dans l'ordre croissant ou décroissant

4. Écris les nombres oubliés dans la suite

1	2		4		6			9	10	11	12		14		16		18		20
---	---	--	---	--	---	--	--	---	----	----	----	--	----	--	----	--	----	--	----

1	2	3																	
---	---	---	--	--	--	--	--	--	--	--	--	--	--	--	--	--	--	--	--

10	11																		
----	----	--	--	--	--	--	--	--	--	--	--	--	--	--	--	--	--	--	--

8	9																		
---	---	--	--	--	--	--	--	--	--	--	--	--	--	--	--	--	--	--	--

Réf.2 Produire et reconnaître les décompositions additives des nombres inférieurs à 20

Réf.3 Comparer, ranger, encadrer

Réf.7 Calculer en ligne des sommes et des différences

5. Écris deux annonces différentes à **deux termes** en fonction du lancer proposé et en respectant la règle du jeu (annonce gagnante)

Annonce	Lancer	G/P
.....	5	G
.....	5	G

6. Écris des annonces à **deux termes** en fonction des lancers proposés et en respectant la règle du jeu (annonces gagnantes).

Annonce	Lancer	G/P
.....	2	G
.....	4	G
.....	6	G

7. Écris des annonces à **deux termes** en fonction des lancers proposés et en respectant la règle du jeu (annonces perdantes).

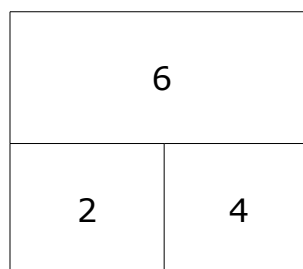
Annonce	Lancer	G/P
.....	5	P
.....	6	P

8. Écris des annonces différentes à **trois termes** en fonction du lancer proposé et en respectant la règle du jeu (annonces gagnantes)

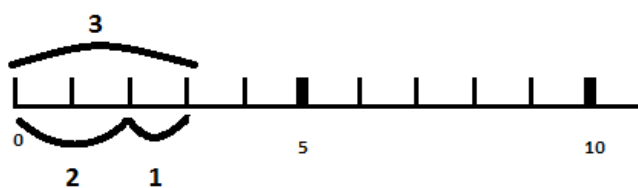
Annonce	Lancer	G/P
.....	4	G
.....	4	G

9. Écris l'annonce correspondant à chaque représentation

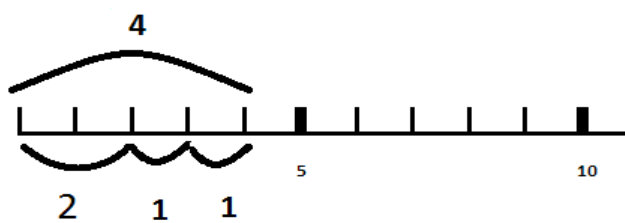
.....



.....

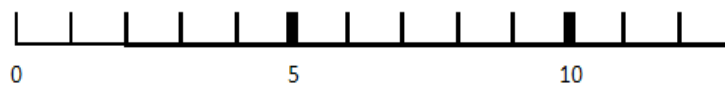


.....

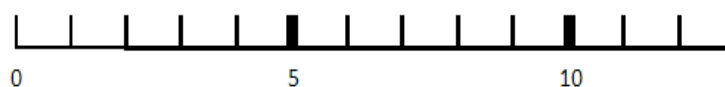


10. Représente l'annonce écrite sur la ligne graduée ou en complétant la boîte.

$$3+3$$





$$2+1+2$$




$3+0+1$

8. **11. Complète** le tableau avec des écritures additives de ton choix correspondant aux lancers.


.....
.....
.....
.....


.....
.....
.....
.....


.....
.....
.....
.....